







**3. Oheisesta tekstistä puuttuu sanoja. Kirjoita tyhjään kohtaan oikea sana. Sanan ensimmäinen kirjain on annettu valmiiksi.**

Antti pääsi töihin vaatekaupan varastolle. Ennen töiden aloittamista hän allekirjoitti t \_\_\_\_\_ .  
 Siihen kuului yhden kuukauden k \_\_\_\_\_ , jonka aikana hän tai työnantaja voi purkaa työ-  
 suhteen. Palkanmaksua ja ennakonpidätystä varten työnantaja pyysi Anttia tuomaan mukanaan  
 v \_\_\_\_\_ . Antti arveli, että vaikka hänen palkkansa oli pieni, tulisi käteen jäävä  
 n \_\_\_\_\_ olemaan kuitenkin ihan mukava Antin pienen v \_\_\_\_\_ vuoksi.  
 Jos Antti pääsee syksyllä tavoittelemansa opiskelupaikkaan, tulee hänen ilmoittaa töiden lopettamisesta  
 työnantajalle etukäteen, koska hänellä on 14 vuorokauden i \_\_\_\_\_ . Työsuhteen lopussa  
 Antin kannattaa pyytää työnantajalta t \_\_\_\_\_ , koska siitä voi olla apua työpaikan saannissa  
 tulevaisuudessa. \_\_\_\_\_/4 p.

**4. Ekologinen jalanjälki kuvaa sitä, kuinka suuri maa- ja vesialue tarvitaan ihmisten kuluttaman ravinnon, materiaalien ja energian tuottamiseen sekä jätteiden käsittelyyn. Ekologinen jalanjälki ilmaistaan usein ”maapalloina”. Näin havainnollistetaan kulutuksen määrää eri maissa väestömäärään suhteutettuna.**

a) Kirjoita oikea maan nimi oikean ekologisen jalanjäljen perään

SUOMI	USA	KIINA	SAMBIA
-------	-----	-------	--------

- 2,2 ”maapalloa”  € \_\_\_\_\_
- 6,2 ”maapalloa”  € \_\_\_\_\_
- 0,8 ”maapalloa”  \_\_\_\_\_
- 8,0 ”maapalloa”  \_\_\_\_\_



\_\_\_\_\_/3 p.

b) Miten kotitaloudet voivat pienentää ekologista jalanjälkeään asumiseen liittyvillä kulutusvalinnoillaan? Mainitse neljä asiaa.

---

---

---

---

---

\_\_\_\_\_/3 p.

c) Miten valtio voi pienentää ekologista jalanjälkeä Suomessa? Mainitse kaksi asiaa.

---

---

---

---

---

\_\_\_\_\_/2 p.

**5. Makeisvero nosti makeisten hintaa vuoden 2011 alusta lähtien.**

a) Mihin eduskunta pyrki makeisveron käyttöönotolla? Mainitse kaksi asiaa.

---

---

---

\_\_\_\_\_/2 p.

b) Mitä epäkohtia vain makeisiin kohdistuvalla makeisverolla on? Mainitse kolme asiaa.

---

---

---

---

---

\_\_\_\_\_/3 p.



6. a) Tutki oheista kaaviota. Mitkä olivat Suomen kolme tärkeintä vientimaata tammi-kesäkuussa vuonna 2010? Luettele ne viennin arvon mukaisessa suuruusjärjestyksessä.

- \_\_\_\_\_
  - \_\_\_\_\_
  - \_\_\_\_\_
- \_\_\_\_\_/2 p.

b) Minkä maiden kanssa Suomen ulkomaankauppa oli alijäämäistä?

---

---

---

---

---

\_\_\_\_\_/3 p.

c) Miksi vienti on Suomen kansantaloudelle tärkeää? Mainitse kaksi asiaa.

---

---

---

---

---

---

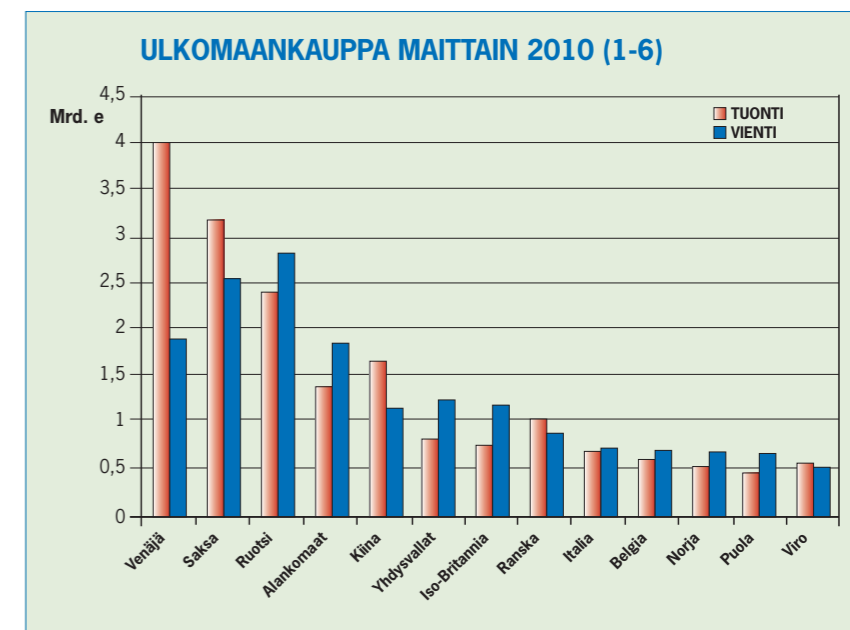
---

---

---

---

\_\_\_\_\_/2 p.



Lähde: www.tulli.fi