

OPPILAS	LUOKKA	PISTEET ____/46 pistettä
KOULU JA KUNTA		
ALUEHALLINTOVIRASTO AVI	PUHELINNUMERO	

1. Pankkikortti.

a) Kortin symboli viittaa lähimaksun mahdollisuuteen. Mitä se tarkoittaa käytännössä?

_____ /1 pistettä

b) Mikä merkitys sirulla on kortin käyttäjälle?

_____ /1 pistettä

c) Mihin debit- ja credit -valinnat liittyvät?

d) Mitä hyviä ja huonoja puolia maksukorteilla on oman taloudenpidon kannalta? _____/2 pistettä

_____ /2 pistettä

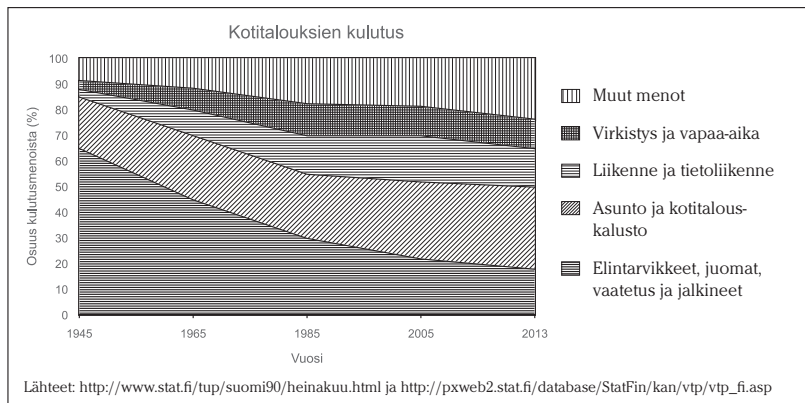
2. Täydennä tekstiin puuttuvat kohdat laatikoista löytyvillä termeillä. Huomaa, että laatikosta löytyy myös kaksi ylimääräistä termiä.

Max on juuri valmistunut auton asentajaksi. Hän lähettää _____ moneen huoltotilaan ja lopulta tärppää – hänet valitaan erään merkkiliikkeen huoltamoon työntekijäksi. Huoltamon edustaja ja Max tekevät _____, jossa määritellään mm. palkka, työtehtävät ja lomat. Työsuhteeseen sisältyy myös neljän kuukauden _____.

Valitettavasti kiristynyt kilpailu huoltoliikkeiden kesken johtaa vuoden kuluttua suuressa merkkikorjaamossa _____, jonka seurauksena Maxia ei irtisanota mutta hänet _____ huoltamolta. Hänen työsuhteensa jatkuu, mutta työnteko ja palkanmaksu keskeytyvät. Onneksi Max kuuluu työttömyyskassaan, joten hän saa palkkaansa suhteutettua _____. Max myös hakeutuu _____ työnhakijaksi, koska hän ei enää usko työllistyvänsä merkkiliikkeeseen. Pian löytyykin uusi työpaikka ja Max _____ merkkiliikkeen palveluksesta. _____/4 pistettä

koeaika	työsopimus	lomautus	sosiaalivirasto	työhakemus
ansiopäiväraha	TE-keskus	irtisanominen	toimeentulotuki	yhteistoimintaneuvottelut

3. Taloustietokilpailu järjestettiin ensimmäisen kerran 50 vuotta sitten eli vuonna 1965. Tutki alla olevaa tilastoa ja vertaile 50 vuoden takaisten kotitalouksien kulutustottumuksia nykypäivän kotitalouksien kulutukseen.



a) Mitkä ovat suurimmat muutokset kulutusmenoissa vuosien 1965 ja 2015 välillä? Mainitse kaksi asiaa.

b) Mistä muutokset johtuvat? Mainitse kolme asiaa.

___/2 pistettä

___/3 pistettä

4. Esitä taloudellisia argumentteja kirpputorilta ostettavien vaatteiden puolesta ja vastaan. Anna kaksi esimerkkiä kummastakin.

___/4 pistettä

5. Yhdistä käsite oikeaan kohteeseen.

tulonhankkimisvähennys

Yle-vero

pääomavero

kotitalousvähennys

veronpalautus

Oy Kattopojat teki uuden tiilikaton omakotitaloon

Työtehtävien hoito on edellyttänyt työkalujen ja ammattikirjallisuuden hankintaa

0 – 143 euroa tuloista riippuen

Ennakonpidätysprosentti on ollut liian suuri

Pankkitalletuksellesi on maksettu korkoa

___/5 pistettä

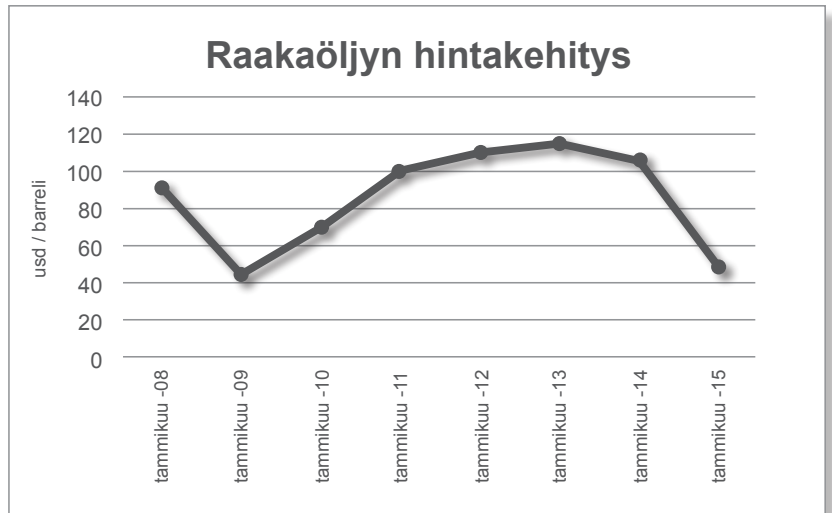
6. Raakaöljyn hinta.

a) Kuinka paljon raakaöljyn hinta on laskenut vuoden 2014 alusta vuoden 2015 alkuun asti? Valitse oikea vaihtoehto.

- n. 30% n. 60 % n. 80% n. 100%

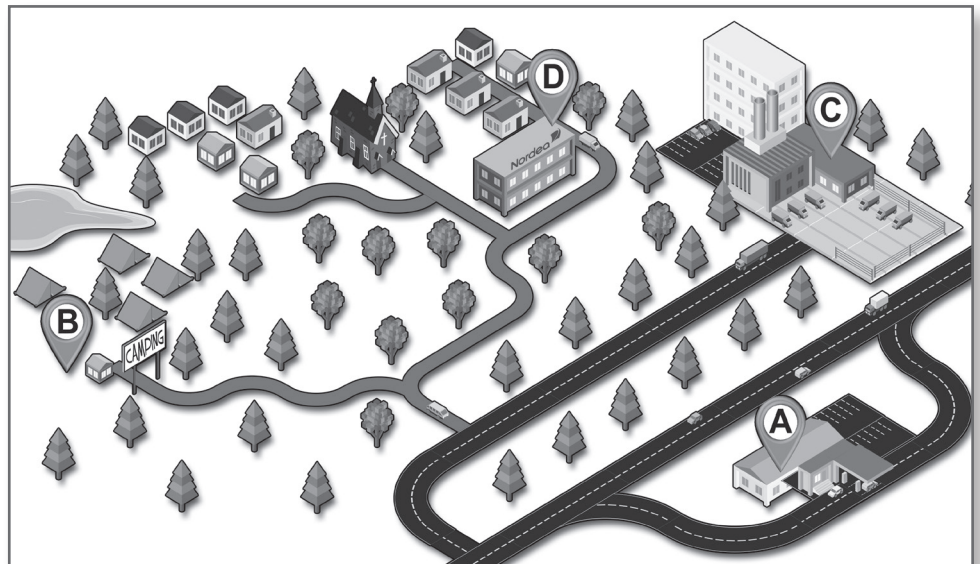
___/1 pistettä

b) Mitkä tekijät vaikuttavat raakaöljyn hintaan? Mainitse kolme asiaa.



___/3 pistettä

7. Olet perustamassa omaa yritystä. Toimialasi on leipomo-kahvila. Toimitat leipiä ja leivonnaisia tilaajille ja myyt niitä lisäksi leipomon yhteydessä olevassa kahvilassa. Tutki oheista karttaa ja päättää, mihin yrityksesi sijoittuu. Valitse vaihtoehdoista A, B, C tai D. Perustele valintasi mahdollisimman hyvin. Pohdi myös valintaasi sisältyviä riskitekijöitä.



___/6 pistettä

