





# TALOUSTIETOKILPAILU 2012

## Loppukilpailu 15.5.2012

Osa 1, aikaa tehtävien tekemiseen on 30 minuuttia.

1. Kirjoita ruutuun kuvassa olevan henkilön toimi.

4 p.

	Christine Lagarde	
	Olli Rehn	
	Mario Draghi	
	Erkki Liikanen	

2. Millä tavalla mitataan seuraavia kansantalouden ilmiöitä:

5 p.

a) inflaatio \_\_\_\_\_

b) työllisyysaste \_\_\_\_\_

c) talouskasvu \_\_\_\_\_

d) julkisen sektorin velkaantuminen

\_\_\_\_\_

e) työikäisten määrä lapsiin ja vanhuksiin verrattuna

\_\_\_\_\_

3. a) Mikä seuraavista raaka-aineista on kalleinta? Ympyröi oikea vaihtoehto.

Kupari                      Nikkeli                                      Alumiini                                      Sinkki

b) Millä seuraavista maista on korkein korko viiden vuoden lainalla?

Puola                      Portugali                                      Espanja                                      Italia

c) Mitä seuraavista elintarvikkeista suomalaiset kuluttivat eniten henkeä kohti vuonna 2010?

Vehnä                      Juusto                                      Ruis                                      Liha

d) Millä seuraavista yrityksistä oli korkein markkina-arvo 11.5.2012?

Rautaruukki OYj                                      Kone OYj

Nokia OYj                                      Fortum OYj

e) Millä seuraavista maista on matalin nuorisotyöttömyys (helmikuu 2012)?

Saksa                      Suomi                                      Italia                                      Espanja

4. Mitkä syyt aiheuttivat sen, että kananmunat loppuivat vähittäiskaupoista pääsiäisenä 2012?

4 p.

---

---

---

---

---

---

---

5. Oheinen pilapiirros on julkaistu englanninkielisessä eurooppalaisessa sanomalehdessä.

a) Nimeä ”pikkuporsaat” oikealla valtion nimellä.

3p.

b) Mitä pilapiirtäjä haluaa piirroksellaan kertoa? Anna esimerkkejä siitä, miten Euro-emakko ruokkii ”pikkuporsaita”.

4 p.

---

---

---

---

---

---

---

---

---

---



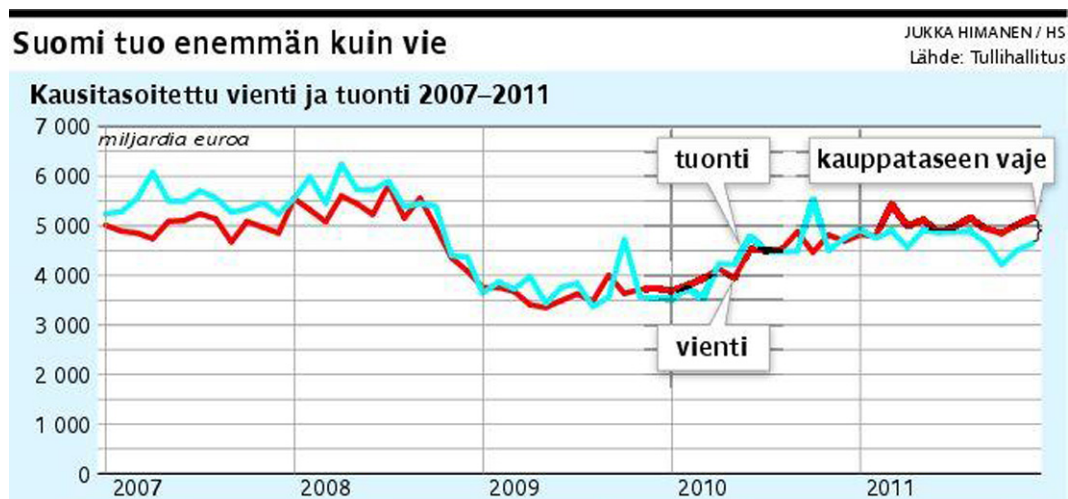
Taloustietokilpailun 2012 pääkysymys, 50 pistettä.

Aikaa tehtävän tekemiseen on 45 minuuttia.

Vastaa yhtenäisenä esseenä erilliselle konseptipaperille. Varmista, että nimesi on vastauspaperissa!

### Kauppataase

- Mitä tarkoitetaan kauppataaseella ja miten se on kehittynyt kuvaajassa näkyvänä aikana?
- Pohdi mistä kauppataaseen vaje johtuu?
- Miten vajetta saataisiin korjattua?



Lähde: Helsingin Sanomat 8.2.2012