

EKONOMIKUNSKAPSTÄVLINGEN 2002

Lärarens poäng

ELEV

SKOLA OCH KOMMUN

LÄN (elever i Helsingfors skolor skall skriva HELSINGFORS)

1. Välj rätt begrepp ur lådan och skriv in det på rätt streck.

direktdebitering	ränta	kreditlimit	
låneskydd	borgen	placeringsfond	
anteckning om betalningsstörning	skuldsanering	säkerhet	aktieäggande

- priset på lånade pengar _____
- att ta ansvar för någon annans lån _____
- ett sätt på vilket långivaren försöker skydda sin fordran på låntagaren _____
- automatisk betalningstjänst på förfallodagen direkt från betalarens konto _____
- anteckning i Asiakastiето Oy:s register p.g.a. oskötta lån eller räkningar _____
- en försäkring som skyddar låntagaren mot bestående arbetsförmögenhet _____

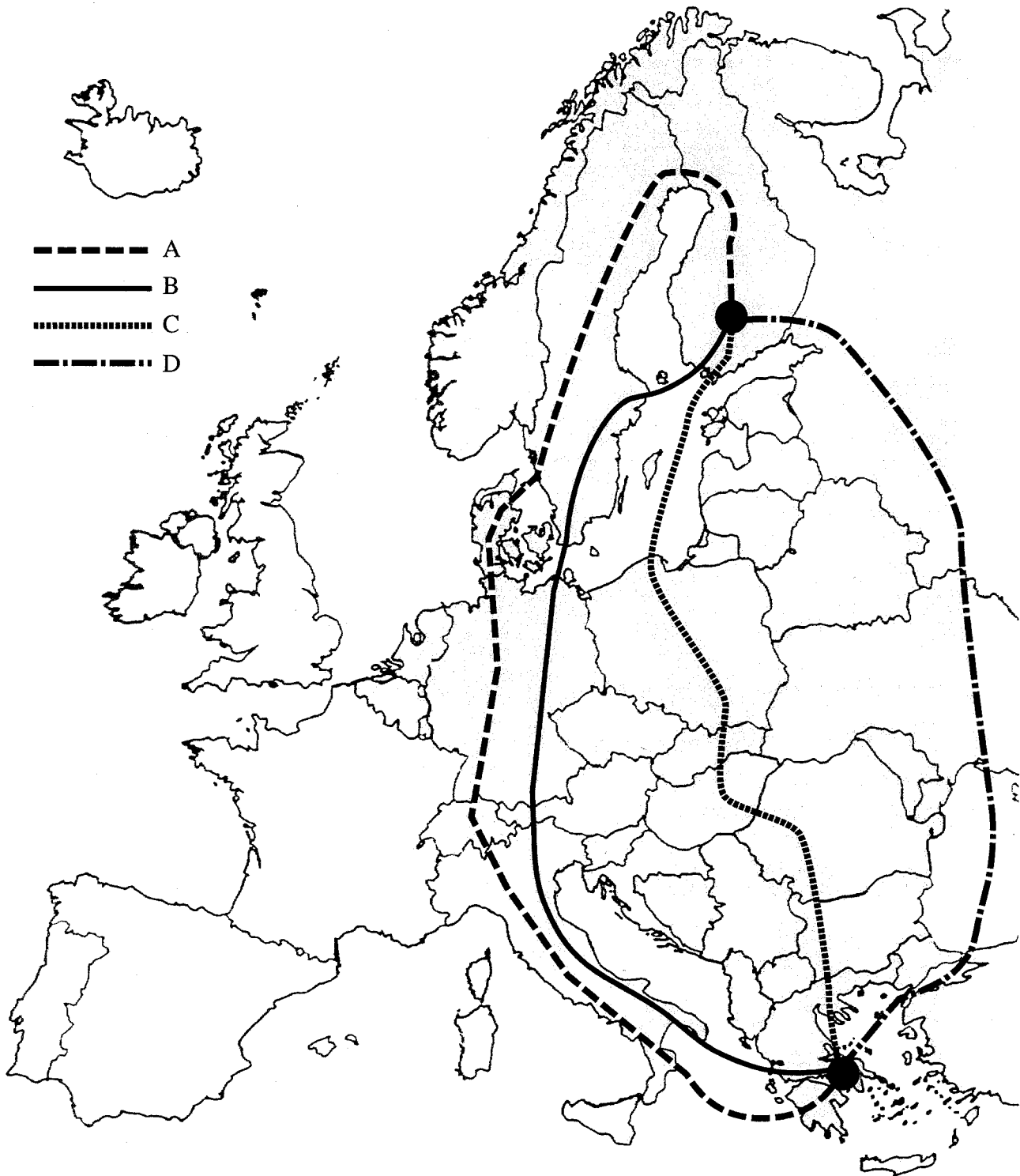
/4

2. Med företagets intressegrupper avses alla de som på något sätt har ett förhållande till företaget eller dess verksamhet.

Kyoko och Kai grundade för två år sedan en japansk restaurang med sex anställda. De äger 60% av restaurangens aktiekapital. Räkna upp vilka andra intressegrupper bolaget har. Nämn minst sex intressegrupper.

/4

3. Du skall resa från Finland till Grekland. I varje land måste du växla till den lokala valutan eftersom du övernattar under resan. Välj den rutt som kräver minst valuta växlingar.



Ringa in rätt alternativ. A B C D

4 Studera grafen i bilaga 1.

a. Hur avspeglas konjunkturväxlingarna i registreringen av nya motorcyklar mellan åren 1971 och 2001?

/2

b. Vilka andra ekonomiska indikatorer (tecken) behövs för att man skall kunna dra slutsatser om det ekonomiska läget i Finland? Ge tre exempel på ekonomiska indikatorer.

c. Hurudant var konjunkturläget enligt grafen år 2001?

/3

/1

5. Du köper Nightwish senaste skiva som piratkopia på torget i Viborg för tre euro. Fundera på vilka ekonomiska konsekvenser ditt köp har i Finland. Ge minst två exempel.

/4

6 a. Studera grafen i bilaga 2 och redogör för vilka problem som kommer att uppstå på den finländska arbetsmarknaden i en nära framtid samt vad dessa problem beror på.

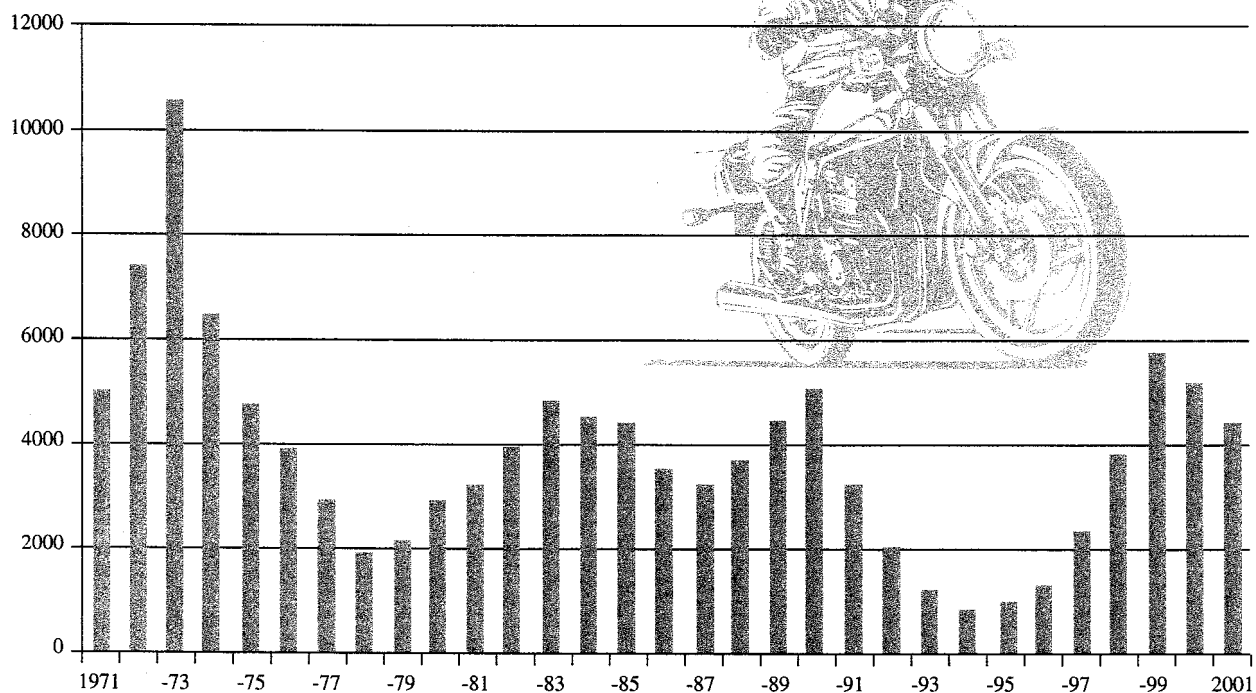
/3

b. Hur kan man lösa problemen? Nämn minst fyra sätt.

/4

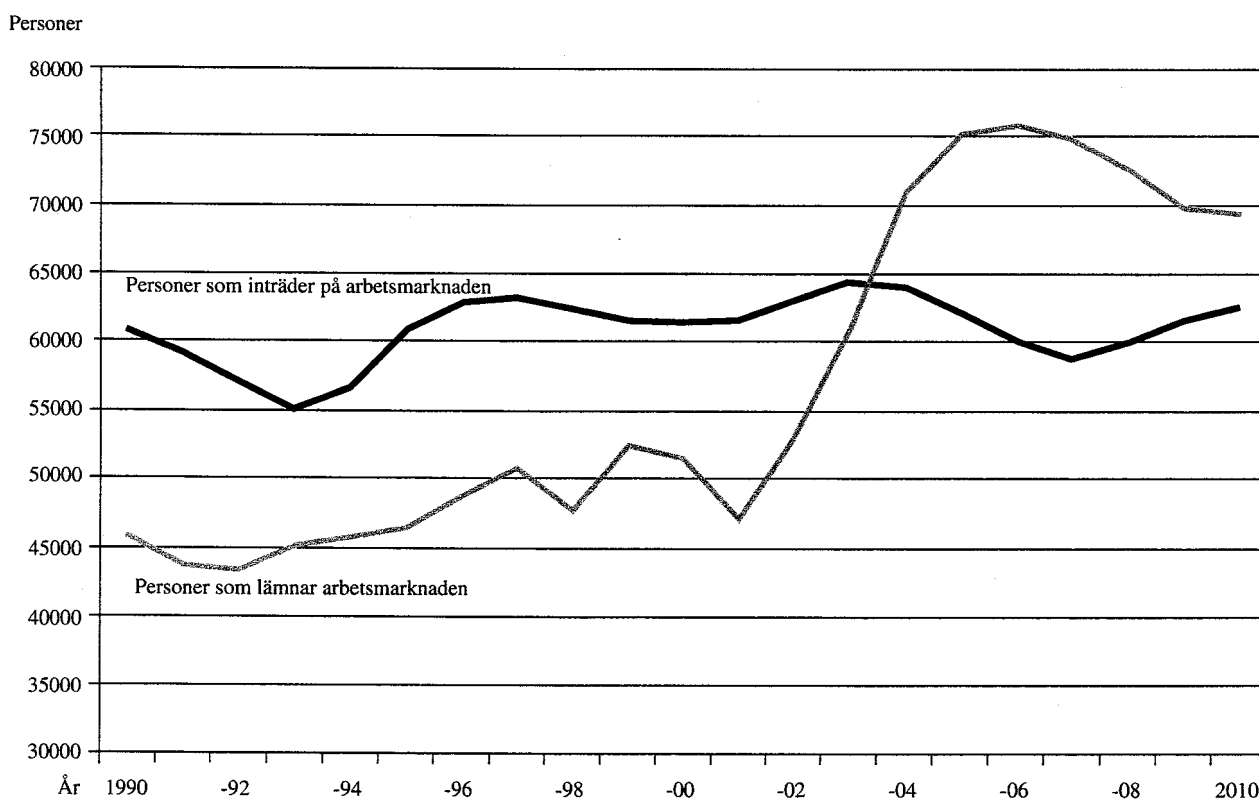
EKONOMIKUNSKAPSTÄVLINGEN 2002

Graf 1
(frågan 4) Registrering av nya motorcyklar
i Finland 1971-2001



Källa: Statistikcentralen 2001 och AKE 2002

Graf 2
(frågan 6) Personer som inträder på arbetsmarknaden samt
personer som lämnar den 1990-2010



Källa: Statistikcentralen 2001