

Lärarens poäng

ELEV

KLASS

SKOLA OCH KOMMUN

LÄN (elever från skolor i Helsingfors skriver HELSINGFORS)

1. Fyll ut texten med ord du valt ur lådan nedanför.

Använd samma ord endast en gång.

Konepaja Ab:s produkter hade dålig åtgång. Den verkställande direktören kallade till sig _____
 _____ och berättade att fabriken anställda hotades av _____. På fabri-
 ken inleddes _____ mellan ledningen och arbetstagarna. Till sist beslöt man
 att 20 arbetstagare skulle _____ för tre veckor men att Villes och Kalles jobb
 skulle upphöra helt. Ville och Kalle anmälde sig som arbetsökande hos _____.
 Eftersom de inte hörde till någon arbetslöshetskassa fick de endast grunddagpenning. För att få den vände de
 sig till _____ på sin hemort. Efter ett par månader beslöt sig kompisarna att
 grunda en bilverkstad tillsammans och ansöka om _____ för detta.

UTKOMSTSTÖD	INKOMSTRELATERAD DAGPENNING	KOMMUNENS SOCIALBYRÅ
BOLAGSSTÄMMA	FACKFÖRBUND	ARBETSKRAFTSBYRÅ
SAMARBETSFÖRHANDLINGAR	PERMITTERING	STARTPENG
	FPA	UPPSÄGNING
		FÖRETAGSSANERING
		FÖRTROENDEMANNEN

/7 p

2. Merja skickades till butiken för att köpa frukostflingor. På hyllan i butiken fanns ett paket som hon kände igen från TV och ungdomsmagasin och ett motsvarande paket av affärskedjans eget märke.

a) Vilka faktorer bör Merja ta hänsyn till när hon gör sitt köpbeslut?
 Nämn tre faktorer.

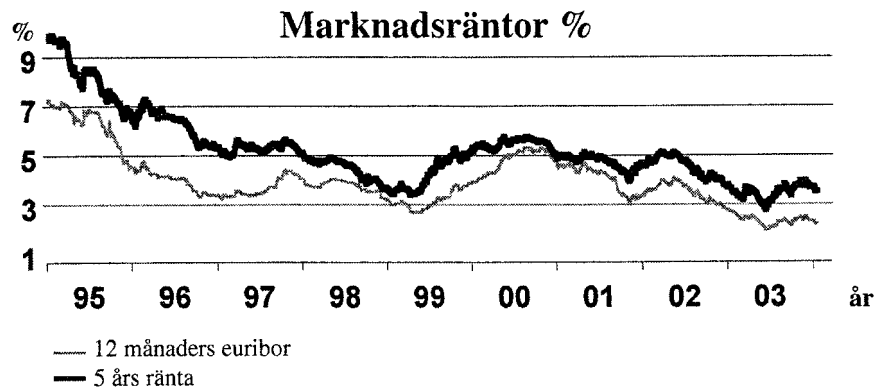


/3 p

b) Vad avses med ett s.k. bränd?

/1 p

3. Matti och Liisa överväger att byta sin hyreslägenhet mot en ägobostad. De har redan sparat ihop 25.000 euro. Bankdirektören erbjuder dem ett lån på 50.000 euro på 20 år. Men valet av ränteform gav paret bekymmer. Liisa ville binda lånet till 12 månaders euribor medan Matti tyckte att fem års fast ränta skulle vara bäst.



a) Granska grafen över ränteutvecklingen. Är det fördelaktigare att låna idag än det var 1995?

b) Hur kan Liisa och Matti motivera sina val?

/2 p

Liisa:

Matti:

c) Vilka andra faktorer i anslutning till lånet bör Liisa och Matti ta hänsyn till när de överväger ett bostadslån? Nämn minst 4 faktorer.

/2 p

4. Exporten är viktigt för utvecklingen av Finlands ekonomi. Ringa in de alternativ som inverkar stimulerande på exporten till utlandet. För varje fel val avdras en poäng.

/4 p

- a) eurons höga kurs i förhållande till dollarn
- b) ökad satsning på teknologi och kunnande i Finland
- c) sparandet ökar i Finland
- d) produktiviteten ökar i Finland
- e) snabb ekonomisk tillväxt på Finlands viktigaste marknader
- f) inflationen ökar i Finland

/3 p

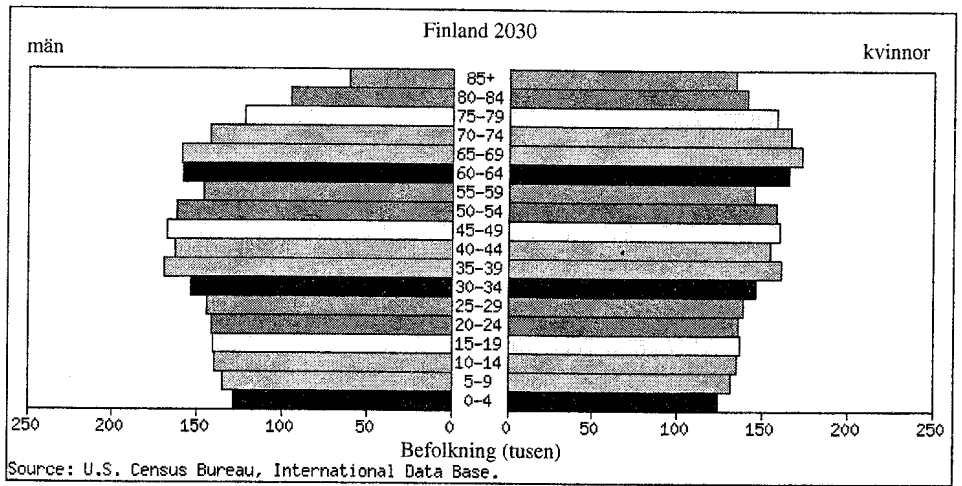
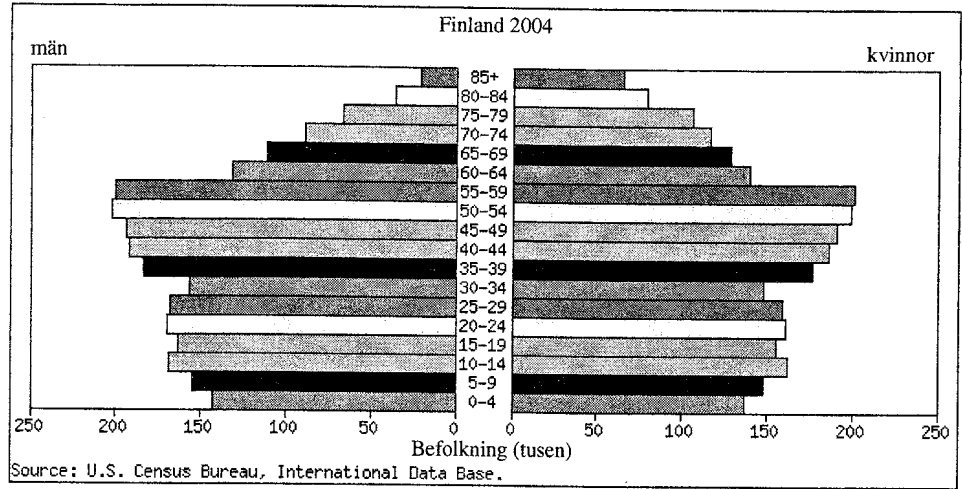
5. I bifogade s.k. befolkningspyramid visas Finlands befolkning åren 2004 och 2030 (prognos)

Hur gammal är du nu? _____

Hur gammal är du 2030? _____

a) Markera med en pil var i de båda pyramiderna du befinner dig.

/1 p



b) Förklara kort hur pyramiderna skiljer sig från varandra. Nämn två faktorer.

c) Fundera på vilken ekonomisk inverkan pyramidernas utveckling kan ha på din åldersklass. Nämn tre omständigheter.

/2 p

/3 p

6. Estland ansluter sig till Europeiska unionen 1.5.2004. Redogör för vilka ekonomiska följder Estlands EU-medlemskap kan ha för Finland. Använd dig i ditt svar också av bifogade ekonomiska nyckeltal.

Svara i essäform.

	Finland	Estland
Inkomstskatteprocent	13-59 %	26 %
Företagsskatteprocent	29 %	0 %
Medellön	2 210 €/mån	414 €/mån