

ELEVENS NAMN	KLASS	POÄNG  ____/46
SKOLA OCH KOMMUN	TELEFONNUMMER	

## 1. Bankkort.

a) Symbolen på kortet betyder att kontaktlös betalning är möjlig. Vad betyder det i praktiken?

\_\_\_\_\_ /1 p

b) Vad innebär chipet för kortinnehavaren?

\_\_\_\_\_ /1 p

c) Vad betyder valet mellan debit och kredit?

\_\_\_\_\_  
\_\_\_\_\_  
\_\_\_\_\_ /2 p

d) Vilka goda och dåliga sidor har betalningskortet med tanke på den personliga ekonomin?

\_\_\_\_\_  
\_\_\_\_\_  
\_\_\_\_\_ /2 p



## 2. Fyll luckorna i texten med termer från rutan. Observera, att det finns två termer för mycket i rutan.

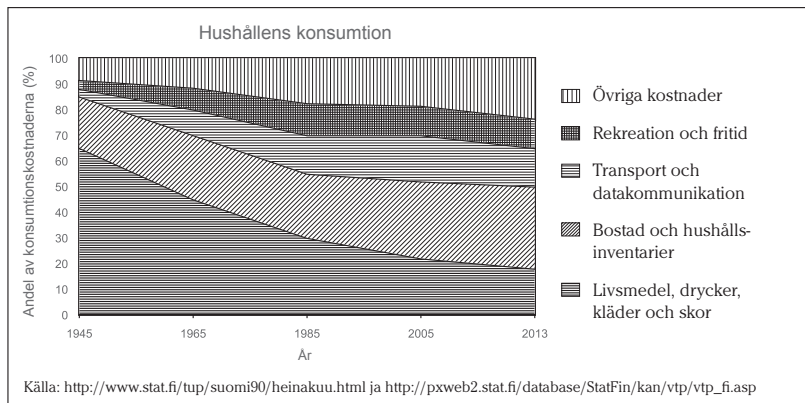
Max har just blivit färdig bilmontör. Han skickar \_\_\_\_\_ till många serviceföretag och till slut får han napp – han får jobb på en märkesverkstad. Verkstadens representant och Max gör ett \_\_\_\_\_, där man bestämmer bl.a. lön, arbetsuppgifter och semestrar. I arbetsförhållandet ingår också en fyra månader lång \_\_\_\_\_.

Tyvärr leder den skärpta konkurrensen mellan serviceverkstäderna till att man i den stora märkesverkstaden inleder \_\_\_\_\_. De leder till att Max inte sägs upp, men han \_\_\_\_\_ från verkstaden. Hans anställningsförhållande fortsätter, men arbetet och löneutbetalningarna avbryts. Lyckligtvis hör Max till arbetslöshetskassan, vilket betyder att han får \_\_\_\_\_ som står i förhållande till hans lön. Max anmäler sig också som arbetssökande på \_\_\_\_\_, eftersom han inte längre tror på fortsatt arbete på märkesverkstaden. Snart får han ett nytt jobb och Max \_\_\_\_\_ från märkesverkstaden.

\_\_\_\_\_ /4 p

prövotid	arbetsavtal	permittering	socialverket	arbetsansökan
inkomstrelaterad dagpenning	TE-centralen	upsägning	utkomststöd	samarbetsförhandlingar

**3. Ekonomikunskapsstävlingen arrangerades för första gången för 50 år sedan, dvs. 1965. Granska statistiken nedan och jämför hushållens konsumtionsvanor för 50 år sedan jämfört med konsumtionen i dagens hushåll.**



a) Vilka är de största förändringarna i konsumtionen mellan åren 1965 och 2015? Nämn två saker.

b) Vad beror förändringarna på? Nämn tre saker.

**4. Ge argument för och emot kläder köpta på lopptorg. Ge två exempel på båda.**

---

---

---

---

---

---

---

---

---

---

**5. Kombinera begreppet med rätt mening.**

inkomstavdrag

Yle-skatt

förmögenhetsskatt

hushållsavdrag

skatteåterbäring

Ab Takpojarna gjorde ett nytt tegeltak på egnahemshuset

Skötande av arbetet har förutsatt anskaffning av verktyg och facklitteratur

0 – 143 euro beroende på inkomst

Förskottsinnehållningen har varit för hög

Du har fått ränta på din bankdeposition

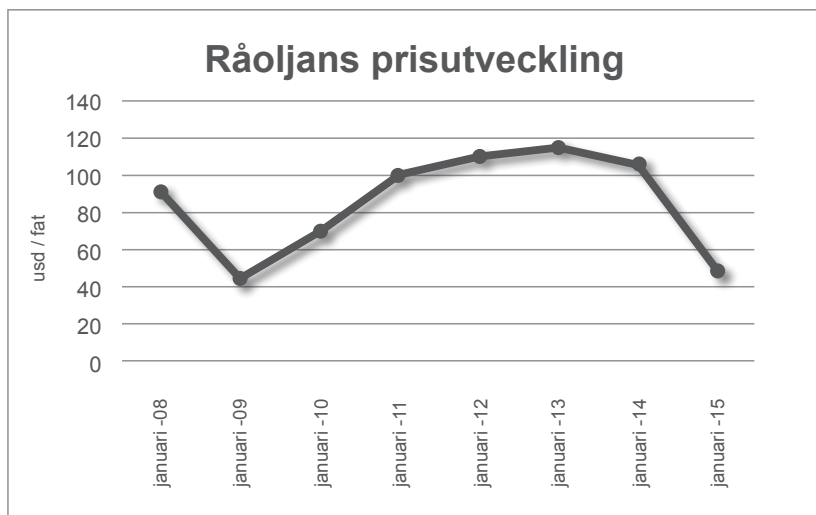
## 6. Priset på råolja.

a) Hur mycket har priset på råolja sjunkit från början av 2014 till början av 2015? Välj rätt alternativ.

- ca 30%     ca 60%     ca 80%     ca 100%

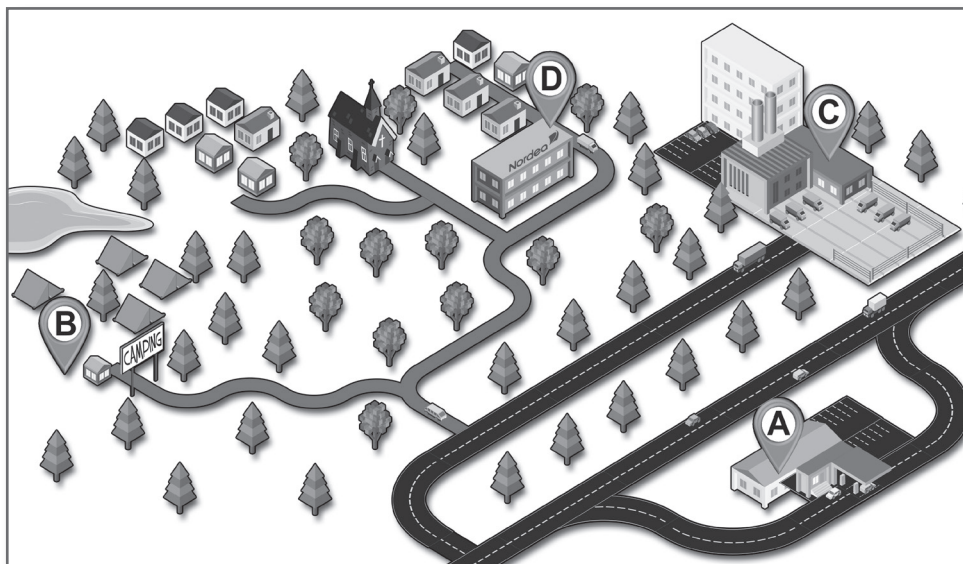
\_\_\_\_/1 p

b) Vilka faktorer påverkar priset på råolja? Nämn tre saker.



\_\_\_\_/3 p

7. Du ska grunda ett företag. Din bransch är konditori-café. Du levererar bröd och kaffebröd till beställarna och säljer dem dessutom i caféet i samband med bageriet. Granska kartan här invid och beslut var ditt företag ska placeras. Välj ett av alternativen A, B, C eller D. Ge en bra motivering till ditt val. Fundera också på riskerna med valet.



\_\_\_\_/6 p

