


OPPILAS	LUOKKA	PISTEET ____/45 pistettä
KOULU JA KUNTA		
ALUEHALLINTOVIRASTO AVI	OPPILAAN PUHELINNUMERO	

1. Liisa suunnittelee menevänsä kesällä festareille. Matkasta tulee monenlaisia kuluja.

a) Kirjoita kulujen perään niihin kuuluva arvonlisäveron määrä. _____/3 pistettä

- Junalippu _____
- Suklaapatukka ja virvoitusjuoma _____
- Kuulosuojaimet _____
- Festarilippu _____
- Yhtyeen fanipaita _____
- Salaattiannos _____



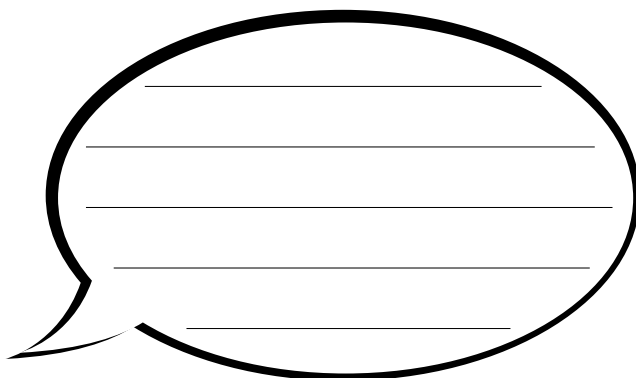
b) Miksi eri hyödykkeillä on erilainen arvonlisäveroprosentti? Mainitse kaksi asiaa. _____/2 pistettä

c) Mainitse kaksi syytä, miksi veroja kerätään. _____/2 pistettä

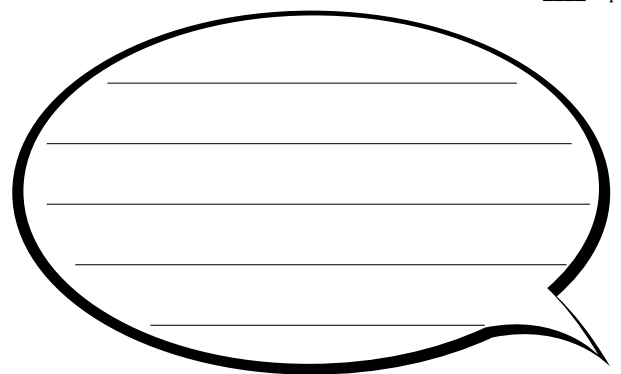
2. Kauppojen aukioloa vapautettiin vuoden 2016 alusta.

a) Mihin kauppojen aukiolon vapauttamisella pyrittiin? Mainitse kaksi asiaa. _____/2 pistettä

b) Kirjoita kauppiaille ja kaupan työntekijälle vuorosanat, joissa he molemmat kertovat kaksi seurausta aukiolojen vapauttamisesta. _____/4 pistettä



KAUPPIAS



TYÖNTEKIJÄ

3. Suomessa markkinoille on tullut bussiyrityksiä, jotka tarjoavat matkalippuja suurten kaupunkien välillä muutaman euron hintaan.

a) Millaisia seurauksia uudesta kilpailutilanteesta on ollut? Mainitse kolme asiaa.

___/3 pistettä

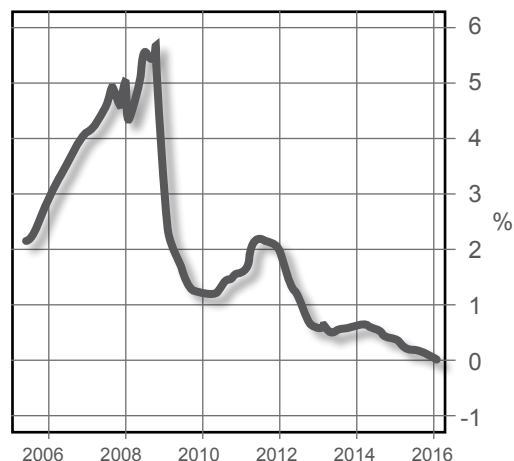


4. Markun asuntolaina on sidottu 12 kuukauden euribor-korkoon ja lainalle sovittu korkomarginaali on 1,5%. Markku on ottanut lainan tammikuun 2012 alussa.

a) Mikä on Markun lainan korko tällä hetkellä?

___/1 pistettä

12 kk Euribor



b) Selitä, mitä tarkoitetaan korkomarginaalilla. Mainitse neljä korkomarginaalin suuruuteen vaikuttavaa asiaa.

___/4 pistettä

© rogerwessmann.com Lähde: Macrobond

c) Selitä, miksi korot euroalueella ovat laskeneet historiallisen alhaiselle tasolle.

___/2 pistettä

5. Mitä seurauksia euron ulkoisen arvon vahvistumisella suhteessa dollariin on? Ovatko olla olevat väittämät oikein vai väärin. Valitse oikea vaihtoehto.

___/3 pistettä

O=OIKEIN V=VÄÄRIN

- A. Suomalaisen turistin on edullista ostaa tuotteita Yhdysvalloista. O V
- B. Sellutehtaan työntekijöillä on pelko työpaikkansa säilymisestä. O V
- C. Lomamatka Ruotsiin halpenee. O V
- D. Saksasta tuodun auton hinta nousee. O V
- E. Amerikkalaisten turistien ostokset Suomessa vähenevät. O V
- F. Levyjen ostaminen USA:n nettikaupoista on edullista. O V

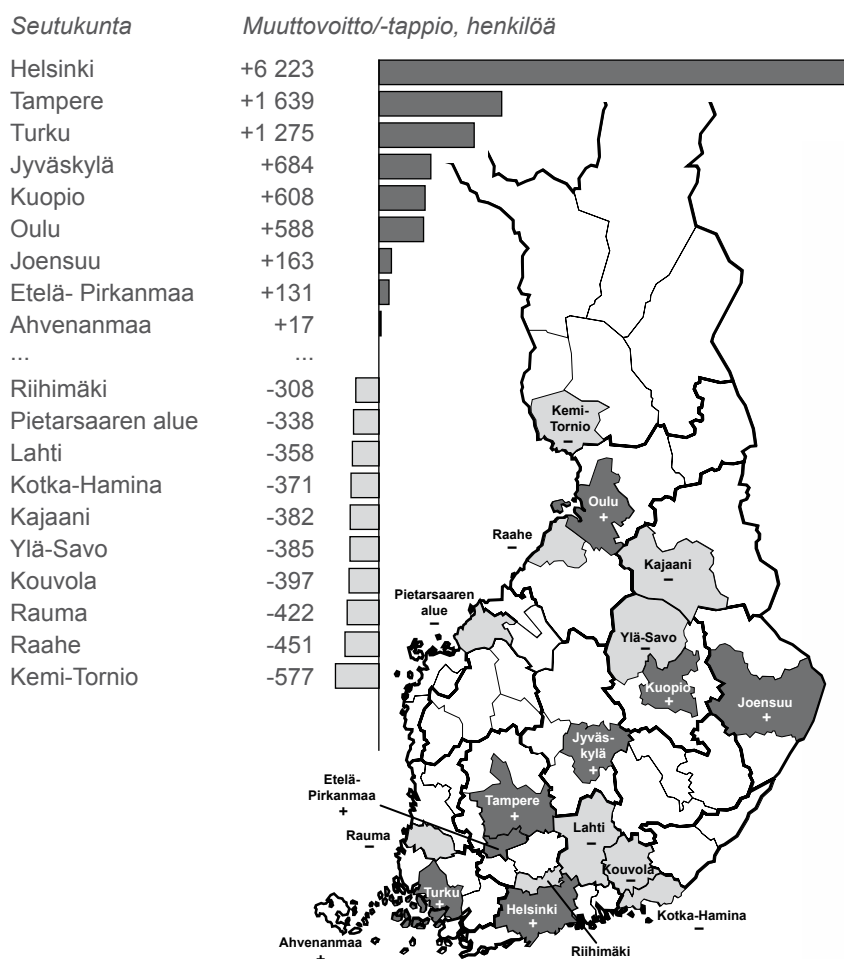
Euro vahvistunut suhteessa dollariin.

6. Kartta ja siihen liittyvä tilasto kertovat muuttoliikkeestä Suomen sisällä eli maassamuutosta. HS 27.1.2016.

___/2 pistettä

a) Mitä voit päätellä kartan avulla Suomen sisäisestä muuttoliikkeestä?

Kuntien välinen nettomuutto seutukunnittain 2015



b) Sinut on palkattu Kemissä sijaitsevaan Meri-Lapin Kehittämiskeskukseen. Tehtäväksesi on annettu houkuttaa lisää muuttajia, jotta alueen elinvoimaisuus säilyy. Laadi viiden kohdan ohjelma, jolla kuntapäätäjät voivat lisätä alueen vetovoimaa.

___/5 pistettä

1.
2.
3.
4.
5.

