


# Ekonomiguru 2024

Inledande tävling den 10 januari 2024 kl 9-11

## 1. Identifieringsuppgift

(2 p/rätt namn och titel, max. 10 p)

Bilderna föreställer fem personer som är förknippade med ekonomin. Skriv varje persons namn och titel. I ordmolnet finns både rätta och falska namn och titlar.



\_\_\_\_\_  
\_\_\_\_\_



\_\_\_\_\_  
\_\_\_\_\_



\_\_\_\_\_  
\_\_\_\_\_



\_\_\_\_\_  
\_\_\_\_\_



\_\_\_\_\_  
\_\_\_\_\_

## 2. Flervalsuppgift

(2 p/rätt alternativ, max. 8 p)

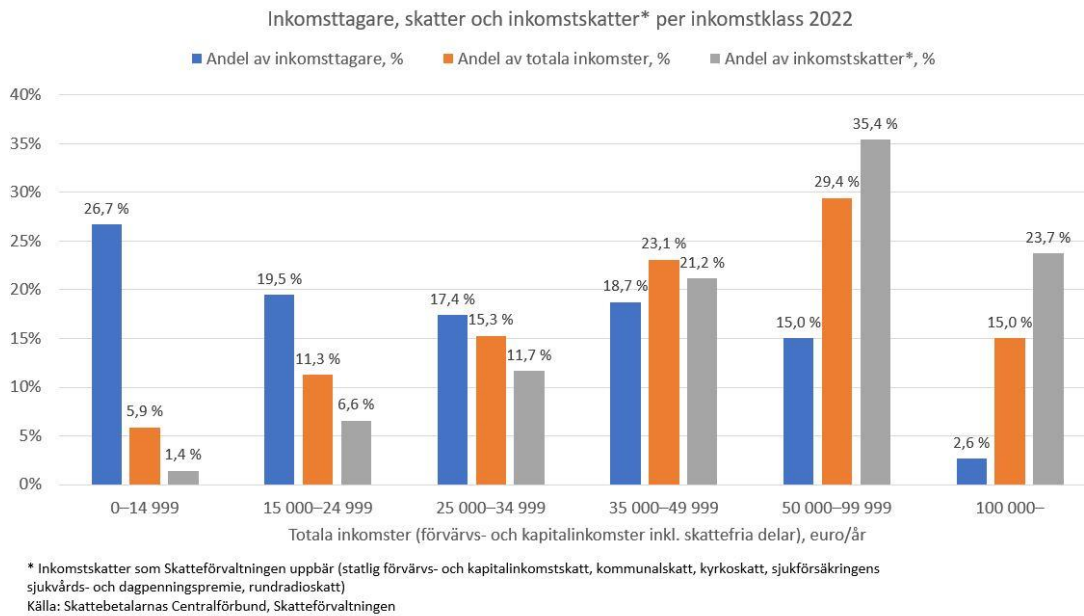
Svara på frågorna. Vilket alternativ är rätt?

- Vilket slags låneamorteringssätt är annuitet?
  - Den inbördes relationen mellan amortering och ränta i betalningsraten ändras när lånets referensränta ändras. När räntan stiger blir också betalningsraten större och när räntan sjunker blir betalningsraten mindre. Lånetiden förblir oförändrad.
  - Låneamorteringen är alltid lika stor, men betalningsratens storlek varierar enligt räntan: Om referensräntan stiger, stiger också betalningarna; om referensräntan sjunker, sjunker betalningarna. Lånetiden förblir oförändrad.
  - Alla betalningsrater är lika stora. Om referensräntan stiger blir lånetiden längre, och om referensräntan sjunker blir lånetiden kortare.
  - Lånekapitalet återbetalas på en gång, och före det betalar man bara ränta.
  
- Du är på väg till affären. På din hemgata råkar du stöta till grannens bil och backspejeln lossnar från bilen. Vilken försäkring kan ersätta skadan?
  - Din olycksfallsförsäkring för fritiden
  - Den obligatoriska trafikförsäkringen för grannens bil
  - Ansvarsförsäkringen i din hemförsäkring
  - Din reseförsäkring
  
- Ränteberäkningsuppgift: Du gör en tidsbunden insättning på tusen euro för tre månader. Årsräntan är 4 %. Hur mycket avkastning får du på din insättning före skatt?
  - 100 euro
  - 40 euro
  - 10 euro
  - 0 euro
  
- Hur stora är de genomsnittliga totalinkomsterna för heltidsarbetande löntagare i Finland år 2021?
  - 2 274 euro
  - 3 734 euro
  - 4 803 euro
  - 5 374 euro

### 3. Inkomstfördelningen och beskattningen

(4 p/rätt omnämnande, max 12 p)

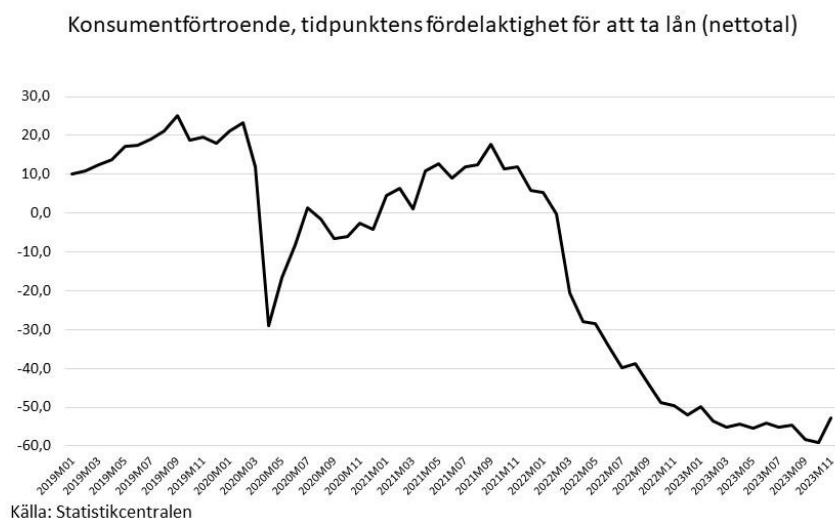
Berätta vad bilden nedan berättar om inkomstfördelningen och beskattningen i Finland. Nämn tre saker. Ditt svar kan vara högst 1 000 tecken långt.



### 4. Konsumentförtroende

(3 p/rätt omnämnande, max. 9 p)

Grafen anger hur fördelaktigt konsumenter har ansett att det är att ta lån på senare år. Berätta vilka faktorer som har påverkat. Nämn tre saker. Ditt svar kan vara högst 1 000 tecken långt.



\*Ju högre netttotal, desto fördelaktigare anser konsumenterna att tidpunkten är för att ta lån

## **5. Essäfråga**

(max. 25 p)

Finlands befolkning åldras och barnafödandet minskar. Utvärdera vad detta betyder ur nationalekonomins och statsfinansernas perspektiv.